

Pracovní list č. 1a

Doplňovačka

Doplň správná slova.

1. Osoba, která řídí obce nebo města. _____
2. Manželka osoby, která řídí obce nebo města. _____
3. Oděv, který se nosí v zimě na rukách. _____
4. Muž a žena v milostném vztahu. _____
5. Malý kovový nástroj, pomocí kterého se šije. _____
6. Baňatá nádoba s uchem. _____
7. Plaz s krunýřem. _____
8. Tvrdý útvar v ústech, který rozmělnjuje potravu. _____

(jednotné číslo)

Osmisměrka

V osmisměrce vyškrtej vypsaná slova z předchozího cvičení a ze zbylých písmen slož tajenku.

S	Z	K	A	A	L	H	E	J	L
R	U	K	A	V	I	C	E	N	D
Í	B	M	Ž	E	L	V	A	Ě	Ž
M	I	L	E	N	C	I	S	T	B
S	T	A	R	O	S	T	O	V	Á
A	A	T	S	O	R	A	T	S	N

Tajenka: _____

Co je to?

Spojovačka

Pokus se spojit skály s jejich názvy.



RUKAVICE

JEHLA

STAROSTA A
STAROSTOVÁ

Pracovní list č. 1b

Kladské pomezí

Kladské pomezí je částí

_____ kraje, která
se nachází na JV / Z / V / SV tohoto
kraje.

Velkou část hranic tohoto území tvoří
i státní hranici s naším sousedem – s _____.



Povrch

Přes velkou část území se rozkládá Broumovská vrchovina, kterou tvoří
tyto stěny, skály a hory:

_____, _____
_____, _____.



Stolová hora Ostaš, _____ stěny,
_____ a _____ skály jsou současně i skalními
městy, které tvoří soubor různých skalních útvarů. Tato skalní města tvoří
hornina zvaná pískovec. _____ skály
jsou největším skalním městem v České republice.

Nejvyšší bod Jestřebích hor je _____
s výškou _____ m n.m.

Nejvyšší bod Javořích hor na české straně je
_____ s výškou
_____ m n.m.

Na obou vrcholech najdeme rozhledny s výhledem
na široké okolí.



Část Kladského pomezí tvoří
Chráněná krajinná oblast _____, která byla zřízena roku 1991
pro ochranu krajiny a přírodních krás této
oblasti.

Vodstvo

Kladské pomezí patří do dvou povodí,
z velké části do povodí řeky Labe a malou
části do povodí řeky Odry.



Nejvýznamnějšími řekami této oblasti jsou řeky _____,
_____, _____ a _____.

Městem Náchod protéká řeka _____,
městem Broumov řeka _____,
městem Jaroměř řeka _____
a městem Úpice řeka _____.

Největšími rybníky Kladského pomezí jsou rybníky Špinka a Brodský, které
se nacházejí v blízkosti města _____.

Rybník Špinka je současně největším rybníkem Královéhradeckého kraje.

Největší vodní plochou tohoto regionu je vodní nádrž _____
u města _____ .

V _____skálách pramení křišťálově
čistá voda, kterou můžeme znát pod značkou Toma Natura.



Pracovní list č. 1c

Orientace

Vybarvi na mapě ČR co nejpřesněji oblast, kde leží Kladské pomezí.



Kraj a poloha

Napiš, v jakém kraji leží Kladské pomezí.

Napiš, v jaké části kraje leží Kladské pomezí? (světová strana)

Povodí

Zakroužkuj, do jakých dvou povodí spadá Kladské pomezí.

povodí Lužnice	povodí Berounky	
povodí Moravy	povodí Odry	povodí Labe
povodí Sázavy	povodí Lužické Nisy	

Skalní města

Přesmyčka – název horniny, která tvoří skalní města v Kladském pomezí.

K Í S P O C V E



Vypiš 3 skalní města (1 hora, 1 stěny, 1 skály), která se nacházejí v Kladském pomezí:

1. _____

2. _____

3. _____

Pravidla v CHKO

Nakresli 😊 k tomu, co se smí a ☹️ k tomu, co se nesmí v chráněné krajinné oblasti dělat.

Pořádat automobilové a motocyklové soutěže.	
Vjíždět motorovými vozidly mimo silnice a komunikace.	
Jezdit na kole po cyklostezkách.	
Fotit a filmovat rostliny a živočichy.	
Rozdělávat ohně mimo vyhrazená místa.	
Chodit po turistických stezkách.	

Pracovní list č. 2a

Podle indicií pozněj zvíře. _____

- mohutná šelma
- silné končetiny, dlouhé drápy, velká kulatá hlava, dlouhá srst
- zbarvení srsti – od žlutavě plavé po tmavě černou
- mladí jedinci mají do druhého roku života bílý pruh na hrdle
- i přes svůj mohutný vzhled je výborný běžec, který dokáže běžet i vyšší rychlostí než 45 km/h
- upadá do nepravého zimního spánku
- největší populace žijí v Rusku, USA a Kanadě
- v ČR vyhynul v druhé polovině 19. století, chráněný a kriticky ohrožený druh
- v současnosti se výjimečně objeví na Moravě zatoulaný ze sousedního Slovenska
- všežravec (60–80% potravy je rostlinná strava)

Medvědárium na náhodském zámku

- zřízeno roku 1994 v zámeckém příkopu
- největší medvědinec v ČR
- medvědi převzati od pražského cirkusového drezéra
- výběh, kotec, bazének, prolézačka
- Ludvík a Dáša (křtění jako František a Františka), je jim přes dvacet let – což je asi 2/3 jejich života

Pracovní list č. 2b

Kulturní památky

Vyber z připravené tabulky správný nadpis a doplň ho nad odrážky do připravených rámečků.



Zámek Ratibořice

Zámek Nové Město nad Metují	Zámek Ratibořice
Zámek Náchod	Benediktinský klášter v Broumově
Zřícenina hradu Vízmburk	Dřevěný hřbitovní kostel Panny Marie v Broumově
Kaple Hvězda v Broumovských stěnách	Domek Boženy Němcové v Červeném Kostelci
Peklo – Bartoňova útulna u Nového Města nad Metují	Ratibořice – Babiččino údolí
Velichovky	Hvězdárna Úpice
Pevnost Josefov	Dělostřelecká tvrz Dobrošov
Bunkrová linie	Železniční muzeum a výtopna Jaroměř
Muzeum Boženy Němcové v České Skalici	Barunčina škola v České Skalici
Jiráskovo muzeum v Hronově	Muzeum stavebnice Merkur v Polici nad Metují
Muzeum bratří Čapků v Malých Svatoňovicích	Rodný domek Aloise Jiráska v Hronově

- národní kulturní památka, dominanta města, medvědárium v zámeckém příkopu, typická psaníčka = sgrafito, 5 nádvoří

- národní kulturní památka, majetek rodiny Bartoň-Dobenín, tvoří celek s náměstím, zámecká zahrada, dřevěný krytý most

- národní kulturní památka, letní sídlo vévodkyně Zaháňské, součástí Babiččina údolí

- středověký hrad objeven archeology, nad údolím řeky Úpy blízko Havlovic

- klášter a kostel sv. Vojtěcha, mumie vamberských občanů, dnešní podoba – barokní (K. I. Dientzenhofer), klášterní zahrada

- nejstarší celodřevěná stavba na území České republiky stavěna bez použití hřebíku

- stavba ve tvaru hvězdy, součástí je kamenný ochoz s výhledem na Broumovsko

- oblast mezi Náchodem a Novým Městem nad Metují, v údolí u řeky Metuje, bývalý mlýn

- krajina pojmenována podle „Babičky“ od Boženy Němcové, komplex památek a míst: Rudrův mlýn, sousoší Babičky s vnoučaty, Staré bělidlo, Viktorčin splav

- lázeňské zařízení s více než stoletou tradicí

- jediná hvězdárna v Kladském pomezí, pozorování Slunce a noční oblohy

- parní lokomotivy

- život a dílo Boženy Němcové, Jiřinkovský sál

- postavena koncem 18. století, vrcholná ukázka evropské architektury v oblasti opevnění, podzemní obranný systém

- součástí československého opevnění z 2. světové války na obranu proti nacistickému Německu

- po délce hřebenu Jestřebích hor, zrekonstruované pěchotní sruby z 2. světové války

- upravená školní třída, kterou navštěvovala Božena Němcová, byt pana učitele z počátku 19. stol.

- historie a současnost známé české kovové hračky, stavebnice z kovových částí spojovaných šroubky

- roubená lidová stavba z 18. století, kde strávil dětství Alois Jirásek

- expozice o životě a díle Aloise Jiráska, v budově Jiráskova divadla

- kupecký domek s přízemním krámkem, ve kterém krátký čas žila Božena Němcová

- ukázka z života a děl bratří Čapků, dům, kde žila rodina Čapkova

Akce a události

K akcím a událostem pořádaných během celého roku dopiš měsíc, ve kterém se odehrávají.



festival v Červeném Kostelci

Náchodská Prima sezóna	
Mezinárodní folklorní festival Červený Kostelec	
Josefovská slavnost a Boj o pevnost	
Koletova Rtyně	
Novoměstský Hrnc smíchu	
Jiráskův Hronov	
Za Babičkou Boženy Němcové do Ratibořic	
Jiřinkovské slavnosti Česká Skalice	
Mezinárodní horolezecký filmový festival Teplice nad Metují	

Dále zjisti, na co jsou jmenované akce, události či festivaly zaměřeny.

Produkty

Ke známým produktům pocházejících z Kladského pomezí vyber z nabídky názvy měst, kde se vyrábějí.

Nové Město nad Metují	Police nad Metují	Broumov	Machov
Teplice nad Metují	Náchod	Broumov	

Veba – textilní výrobky

Doldy – batohy a ruksaky


Merkur – stavebnice, hračky

Prim – hodinky

Toma Natura – pramenitá voda

Opat – pivo

Primátor – pivo



výrobek ze stavebnice Merkur

Pracovní list č. 2c

5 TOP míst

Vypiš alespoň 5 míst nebo událostí v Kladském pomezí, které jsi už navštívil/a nebo bys chtěl/a navštívit, a za název napiš, co tě na nich zaujalo.

1. _____

2. _____

3. _____

4. _____

5. _____

Města

Doplň města do vět.

➤ Medvědy mohu vidět na zámku v _____.

➤ Dřevěný most v zámecké zahradě se nachází v _____
_____.

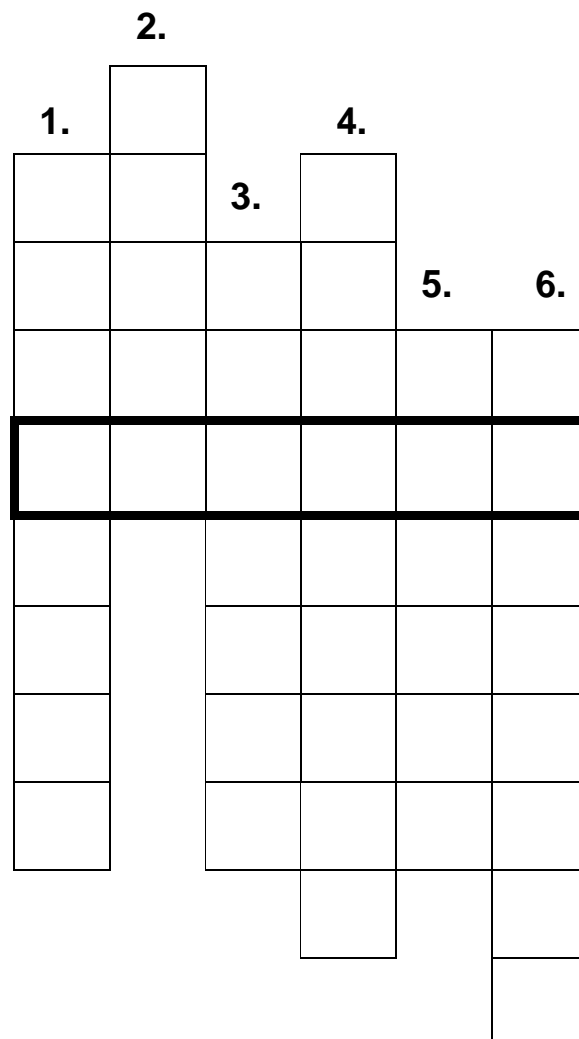
➤ Kaple Hvězda se nachází mezi _____
a _____.

➤ Rodný domek Aloise Jiráska a jeho muzeum mohu navštívit
v _____.

➤ Mezinárodní horolezecký filmový festival se koná
v _____.

Hřebenatka

1. Název hradu, jehož zřícenina se nachází blízko Havlovic
2. Město, ve kterém se nachází jediná hvězdárna Kladského pomezí.
3. Město, ve kterém nalezneme železniční muzeum.
4. Jakého typu je mezinárodní festival, který se koná v Červeném Kostelci.
5. Instituce, která je dnes v domě, kde bydlela rodina Čapkových.
6. Název piva, které se vaří v Náchodě



Tajenka: _ _ _ _ _

Vytvoření tajenky

Vyber správnou odpověď a písmeno za ní piš postupně do tabulky, ze které ti vyjde tajenka.

1. Firma, která sídlí v Broumově a vyrábí textilní výrobky
 - a. Opat U
 - b. Veba O
 - c. Merkur K
2. Z jakého materiálu je kostel Panny Marie v Broumově
 - a. dřevo L
 - b. kámen S
 - c. železo P
3. Název lázní v Kladském pomezí
 - a. Karlovy Vary A
 - b. Velichovky K
 - c. Luhačovice D
4. Církevní památka uchovává v Broumově mumie vamberských měšťanů
 - a. kostel M
 - b. kaple C
 - c. klášter E
5. Ve kterém městě **není** muzeum spojené s Boženou Němcovou
 - a. Česká Skalice I
 - b. Hronov P
 - c. Červený Kostelec G

--	--	--	--	--



Tajenka: _ _ _ _ _

Výlet

Pomocí mapy a znalostí navrhni výlet pro kamaráda/kamarádku na jeden den tak, abyste navštívili co nejvíce památek nebo zajímavostí, které jsou poblíž sebe.

Památky:

Cesta:

Co s sebou:

Pracovní list č. 3a

Portréty

Poznáš spisovatele či spisovatelku, kteří mají spojitost s Kladským pomezím? Pomůžou ti přesmyčky.




AREKL AČPKE



AOILS IRJÁEKS



OŽBNAE MONĚCÁV



FOSEJ VRKECÝŠOK

Pracovní list č. 3b

Osobnosti

Z pracovního listu, který obdržíte do skupiny, vypište v heslech informace k zapamatování, které jsou podle vás důležité. Následující osnova vám může pomoci. Dalším úkolem je představit daného spisovatele zbytku třídy.

Osnova

Jméno:

Narození:

Úmrtí:

Život:

Povolání, zaměření:

Dílo:

Zajímavost:

Historie

Očísluj události z historie tak, jak šly po sobě (1. = nejstarší).

	I. světová válka, 1914–1918
	Kosmova kronika – zmínka o Kladském pomezí z 11. století, nazváno jako brána strážná, cesta do Polska, dnes Branka nad Starým Městem nad Metují, dříve obchodní stezka
	Selské povstání ve Rtyni v Podkrkonoší roku 1775, vedl rychtář Antonín Nývlt
	II. světová válka – 1939–1945 opevnění Dobrošov – 1,75 km chodeb v 20-39 m hloubka, stavba v letech 1936-38 pěchotní srub Březinka, pěchotní srub Lom, obranná linie bunkrů na hřebenu Jestřebích hor
	Třicetiletá válka –1618–1648, náboženské spory, bitva na Bílé hoře – údajně kůň Fridricha Falckého při útěku z bitvy přes Náchod ztratil podkovu
	Prusko-rakouská válka – bitva u Náchoda roku 1866
	Pevnost Josefov, stavěna v letech 1780–1787 za vlády Josefa II., ochrana proti Prusku

Pracovní list č. 3c

Indicie

Poznej podle indicie spisovatele.

- Kanada _____
- historie _____
- překladatel, fotograf _____
- robot _____
- Barbora _____

Díla

Ke každému spisovateli napiš alespoň jedno jeho dílo.

- Josef Čapek:
- Karel Čapek:.....
-
- Alois Jirásek:.....
- Božena Němcová:.....
- Josef Škvorecký:

Napiš po sobě spisovatele tak, jak se narodili (1. nejstarší, 5. nejmladší).

- 1.
- 2.
- 3.
- 4.
- 5.

Města

Spoj jméno spisovatele/spisovatelky s městem, ke kterému se vztahuje.

Náchod
Hronov
Česká Skalice, Červený Kostelec
Úpice, Malé Svatoňovice

Božena Němcová
Bratři Čapkové
Josef Škvorecký
Alois Jirásek

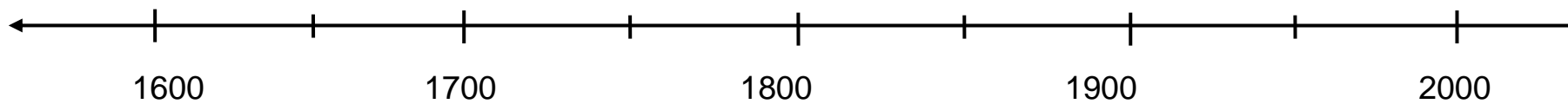
Letopočty + osa

K událostem dopiš letopočty z rámečku, každý jinou barvou.

1618–1648, 1775, 1780–1787, 1866, 1914–1918, 1939–1945
--

_____	bitva u Náchoda (Prusko-rakouská válka)
_____	I. světová válka
_____	selské povstání ve Rtyni v Podkrkonoší
_____	Třicetiletá válka
_____	II. světová válka
_____	stavba Josefova (část vlády Josefa II.)

Na časovou osu vyznač letopočty barvou z předchozího cvičení.



Pracovní list č. 4

Město

Napiš o městě vše, co tě napadá – blízké památky, akce, přírodní zajímavosti v okolí, slavný spisovatel/ka a místní produkty.

Náchod –
Broumov –
Nové Město nad Metují –
Červený Kostelec –
Police nad Metují –
Hronov –
Česká Skalice –
Úpice –
Teplice nad Metují –
Jaroměř –

Spisovatelé

Napiš autora díla:

- : Babička _____
- : Staré pověsti české _____
- : Prima sezóna _____
- : Dášeňka, čili Život štěněte _____

Název

Co je ...?

Žaltman –.....

Špinka –.....

Veba –.....

Stěnava –.....

Doldy –.....

Peklo –.....

Dobrošov –.....

Ostaš –.....

Velichovky –.....

Vízmburk –.....

Vetřelec

Zakroužkuj, co do skupiny nepatří (v rámci Kladského pomezí).

- Javoří hory, Jestřebí hory, Orlické hory, Broumovské stěny
- Merkur, Primátor, Toma Natura, Škoda Auto
- Rozkoš, Pastviny, Špínka, Brodský
- J. Neruda, J. Škvorecký, A. Jirásek, K. Čapek
- Vltava, Labe, Metuje, Úpa
- Ostaš, Žaltman, Praděd, Ruprechtický Špičák

Otázky

Jak se nazývají objekty, které zůstaly v krajině Kladského pomezí po 2. světové válce?

Který spisovatel z Kladského pomezí byl i dobrý malíř?

Do kterého města v Kladském pomezí by ses vydal/vydala na prohlídku parních lokomotiv?
